
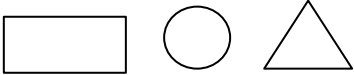
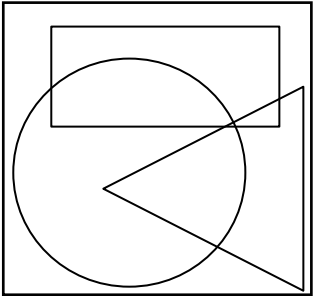
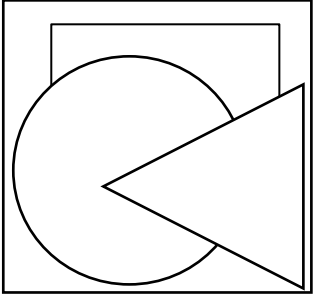
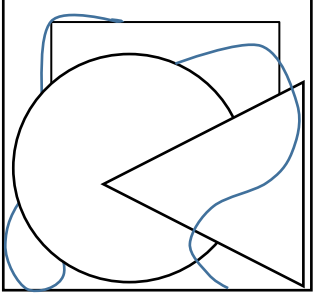


## Abstraktais dizains

Uzdevums	Piemērs
<p>1. Formātu 20x20 sadali ar 1 vertikālu un 1 horizontālu līniju laukumos</p>	
<p>1. Formātā 20x20 uzzīmē 3 lielas ģeometriskas figūras:</p> <p></p>	
<p>2. Izzēs liekās līnijas tā, lai viena no figūrām būtu redzama pilnībā.</p>	
<p>3. Uzzīmē liektu līniju, kas vijās pāri figūrai, kas redzama pilnībā.</p>	
<p>5. Katru laukumu izkrāso atbilstošā krāsu gammā.:</p> <ol style="list-style-type: none"> <li>1. Melns, balts un pelēks</li> <li>2. Monohromatiskajā krāsu gammā (1 krāsa piem. Gaiši zils, zils un tumši zils)</li> <li>3. Analogajā krāsu gammā (3 blakus esošas krāsas krāsu aplī).</li> <li>4. Pretkrāsās jeb komplementārajās krāsās (zaļš+sarkans, zils+oranžs vai dzeltens+violeti)</li> </ol>	